



INVESTICE DO ROZVOJE VZDĚLÁVÁNÍ

## Stavění kostek

VY\_42\_INOVACE\_53

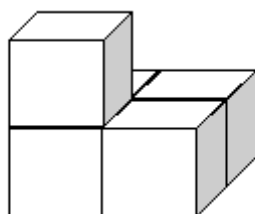
**VZDĚLÁVACÍ OBLAST:** Matematika a její aplikace

**VZDĚLÁVACÍ OBOR:** Matematika

**ROČNÍK:** První

## Pracovní list z matematiky

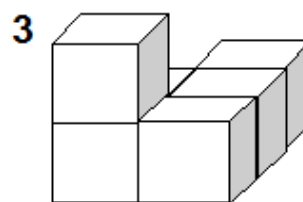
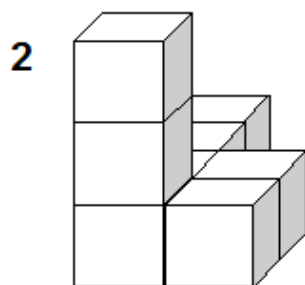
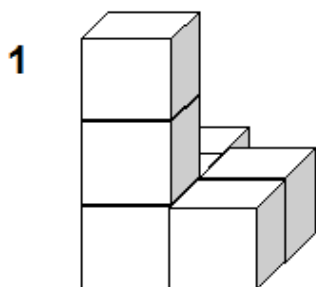
Na obrázku je stavba z kostek, spočítej, z kolika je postavena



Napiš na linku počet kostek \_\_\_\_\_

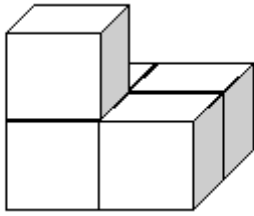
**Další úkol zní:** přidej 6 kostek, potom uber 4 kostky a nakonec ještě 1 kostku přidej. Prohlédni si, který obrázek odpovídá zadanému úkolu.

Zakroužkuj správnou odpověď



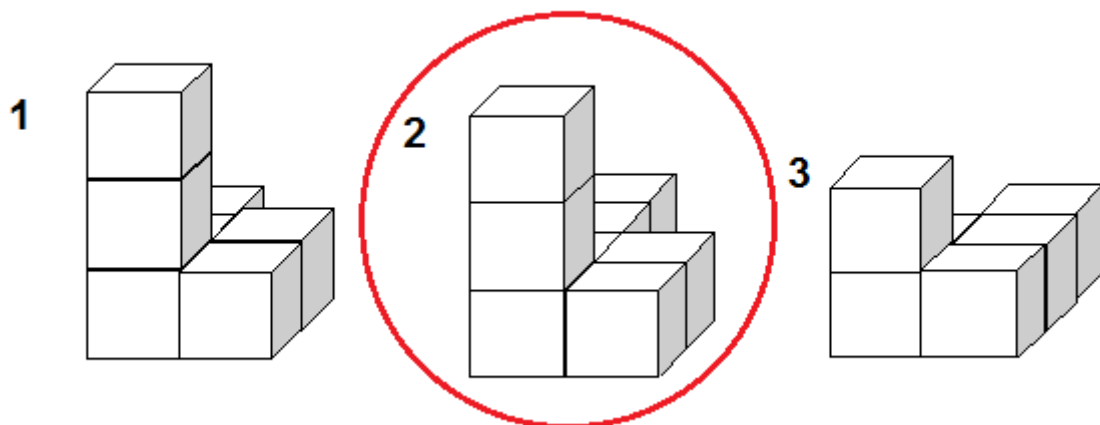
## ŘEŠENÍ:

Na obrázku je stavba z kostek, spočítej, z kolika je postavena



**Napiš na linku počet kostek 5**

**Další úkol zní:** přidej 6 kostek, potom uber 4 kostky a nakonec ještě 1 kostku přidej. Prohlédni si, který obrázek odpovídá zadanému úkolu  
Zakroužkuj správnou odpověď



**Autor:** Věra Ptáčková

**Období vytvoření VM:** 26.3. 2012

**Ročník:** 1.

**Vzdělávací oblast:** Základní vzdělávání, 1.stupeň-1.období

**Vzdělávací obor:** Geometrie v rovině a prostoru

**Téma:** Geometrická tělesa

**Klíčová slova:** krychle-kostky

**Anotace:** Žáci pojmenovávají geometrická tělesa, pozorují stavby z kostek (krychlí) a plní zadané úkoly.