



INVESTICE DO ROZVOJE VZDĚLÁVÁNÍ

Čtvercový obrázek, šipky

VY_42_INOVACE_37

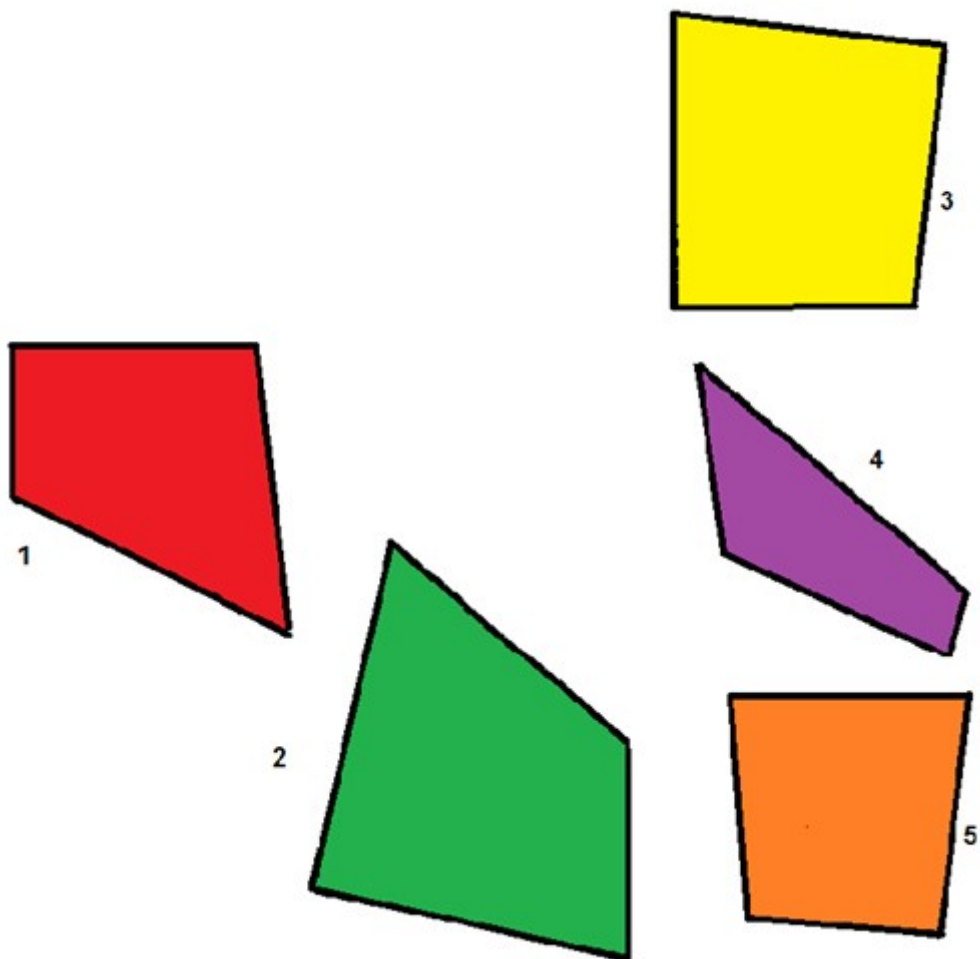
VZDĚLÁVACÍ OBLAST: Matematika a její aplikace

VZDĚLÁVACÍ OBOR: Matematika

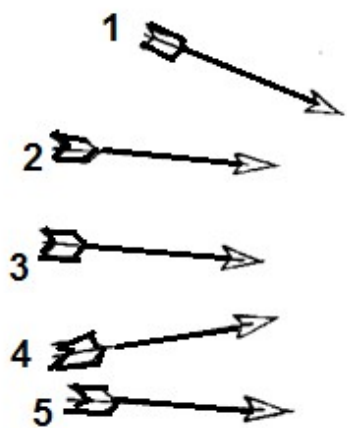
ROČNÍK: Druhý

Pracovní list z geometrie

Vystřižni těchto 5 geometrických tvarů a zkus z nich sestavit čtverec

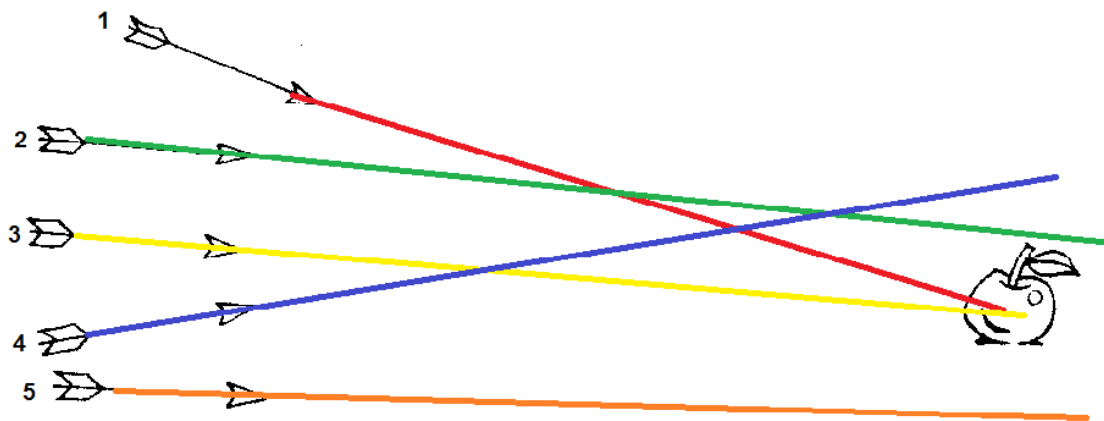


Zapiš na linku číslo šipky, která zasáhne jablko



ŘEŠENÍ:

Čtverec složit z částí 1,2,3,5



Šipky číslo 1, 3 zasáhnou jablko

Autor: Věra Kutílková

Období vytvoření VM: 3.2.2012

Ročník: 2.

Vzdělávací oblast: Základní vzdělávání, 1.stupeň-1.období

Vzdělávací obor: Geometrie v rovině a prostoru

Téma: Geometrické tvary a tělesa

Klíčová slova: geometrické tvary, přímé čáry

Anotace: Žáci si procvičí kreslení přímých čar, sestavování čtvercového obrázku