



EVROPSKÁ UNIE



MINISTERSTVO ŠKOLSTVÍ,
MLÁDEŽE A TĚLOVÝCHOVY



OP Vzdělávání
pro konkurenceschopnost

INVESTICE DO ROZVOJE VZDĚLÁVÁNÍ

Stíny těles

VY_42_INOVACE_54

VZDĚLÁVACÍ OBLAST: Matematika a její aplikace

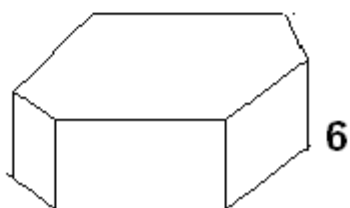
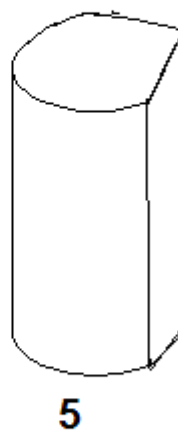
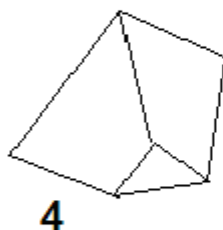
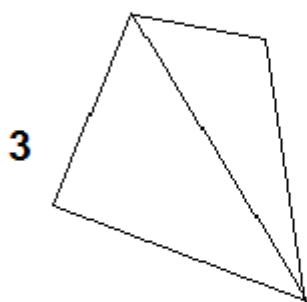
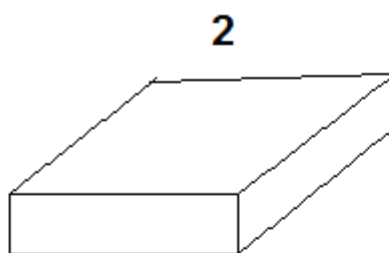
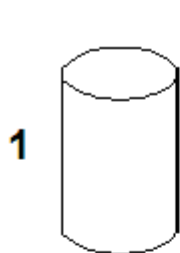
VZDĚLÁVACÍ OBOR: Matematika

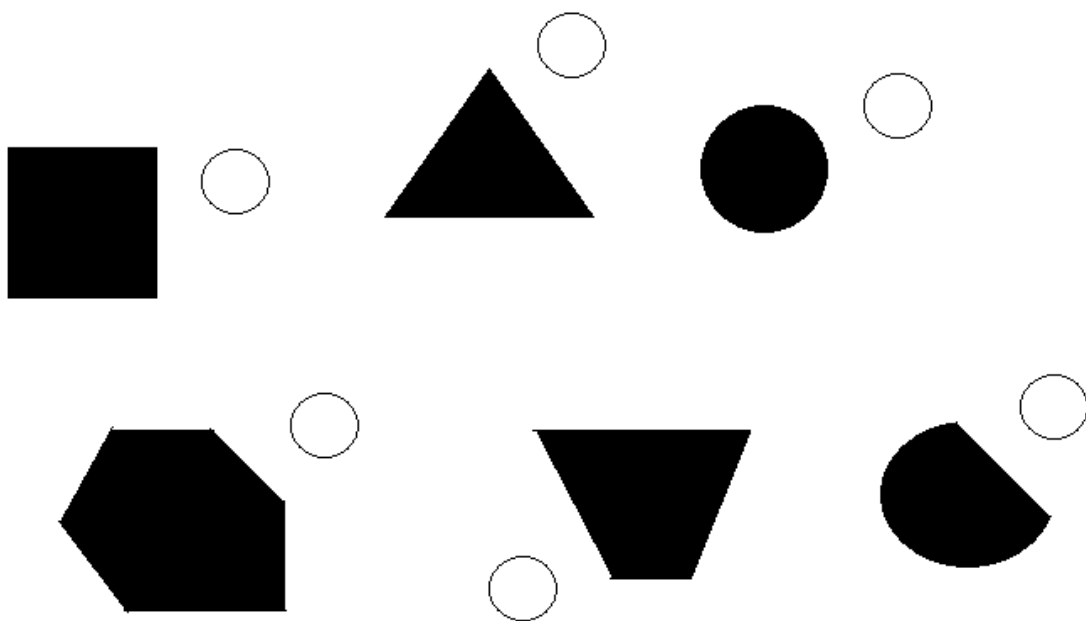
ROČNÍK: Třetí

Pracovní list z matematiky

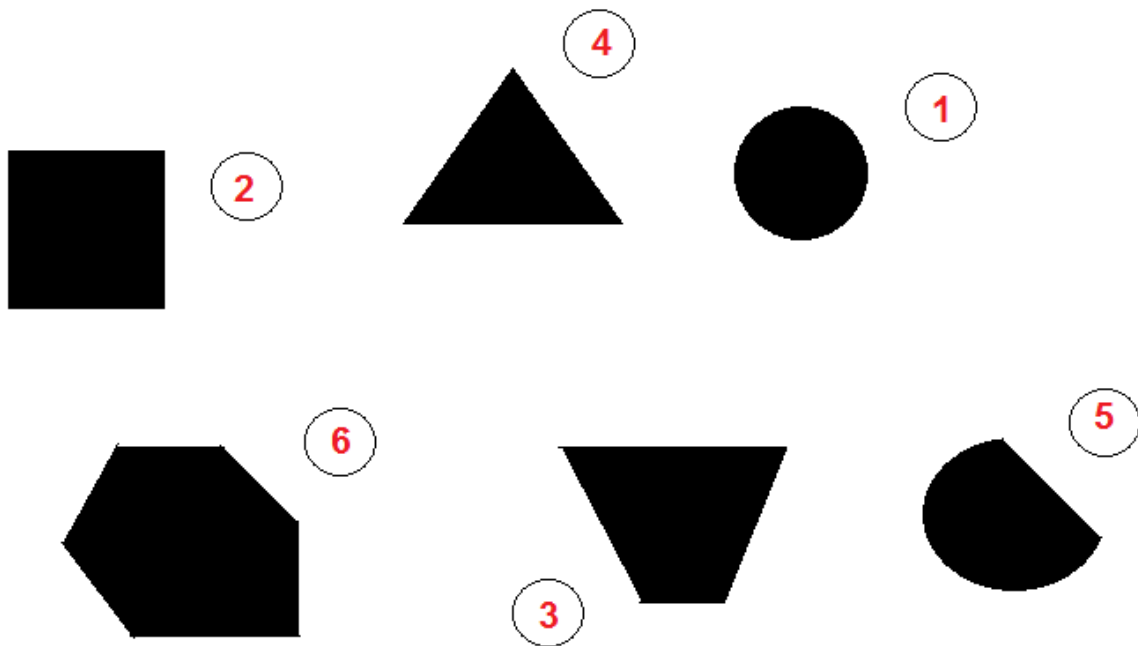
Na stole leží tělesa. Shora je osvětlíme, jaký promítnou stín?

Napiš dolu ke každému stínu správné číslo tělesa.





ŘEŠENÍ:



Autor: Věra Kutílková

Období vytvoření VM: 29.3. 2012

Ročník: 3.

Vzdělávací oblast: Základní vzdělávání, 1.stupeň-1.období

Vzdělávací obor: Geometrie v rovině a prostoru

Téma: Geometrické tvary, délka úsečky

Klíčová slova: Čtverec, trojúhelník

Anotace: Žáci pojmenovávají geometrická tělesa, lze si je vybarvit
(tříbí si představivost).